



Ce document a été numérisé par le CRDP  
d'Alsace pour la Base Nationale des Sujets  
d'Examens de l'enseignement  
professionnel



C/S	TRAVAIL DEMANDE	RESSOURCE	EXIGENCES	REPONSES	BAREME
C1-01 Lire et décoder les documents	<b>L'ETUDE PORTE SUR L'ANALYSE GENERALE DU DOSSIER TECHNIQUE</b>	Dossier technique	L'orientation est exacte	Orientation façade 1 : .....	/02
	Donner l'orientation de la façade 1		Les cotes sont exactes	Niveau N1 : ..... Niveau N2 : .....	/01
	Déterminer les valeurs des cotes de niveaux N1 et N2		La signification des symboles est exacte	EU : ..... EP : ..... PV 8300 : .....	/02
	Donner la signification des symboles ci contre		Le nom et les dimensions sont exacts	Nom de l'élément T : ..... Dimensions : .....	/01
	Nommer l'élément de construction repéré T sur le plan de l'étage. Préciser ces dimensions.		Valeur exacte	Valeur du niveau N3 : .....	/02
	A partir de la pente du toit et de la longueur 4688 mm, déterminer la valeur du niveau N3		Le calcul est exact	Hauteur entre deux marches : .....	/02
	Calculer la hauteur entre deux marches successives à l'aide du plan de l'étage				/10






SECTEUR BATIMENT	CAP	Peintre Applicateur de Revêtements	SESSION 2011	Epreuve EP1	Forme Ecrite	Durée 3H00	ANALYSE D'UNE SITUATION PROFESSIONNELLE SUJET	Coefficient feuille	4 2 sur 9
------------------	-----	------------------------------------	--------------	-------------	--------------	------------	--	------------------------	--------------

C/S	TRAVAIL DEMANDE	RESSOURCE	EXIGENCES	REPOSES	BAREME
<b>L'ETUDE PORTE SUR LA REALISATION DES TRAVAUX DE LA CHAMBRE 1</b>					
C2-01  Traduire graphiquement une solution technique	<p><b>L'ETUDE PORTE SUR LA REALISATION DES TRAVAUX DE LA CHAMBRE 1</b></p> <p>Vous devez poser des dalle 50 X50 dans la chambre 1</p> <p>Compléter le plan de la chambre 1 à l'échelle 1/25</p> <ul style="list-style-type: none"> <li>- Cotes manquantes</li> <li>- Proposer une répartition des dalles en pose droite</li> <li>-</li> </ul>	<p>Dossier technique</p> <p>Ressources personnelles</p> <p>Dossier ressource</p>	<p>Les cotes sont exactes</p> <p>L'implantation respecte les règles de pose</p>	<p>Répondre sur l'annexe 1</p>	/20
					/20





SECTEUR BATIMENT	CAP	Peintre Applicateur de Revêtements	SESSION 2011	Epreuve	Forme	Durée	ANALYSE D'UNE SITUATION PROFESSIONNELLE	Coefficient	4
				EP1	Ecrite	3H00			

C/S		RESSOURCE	EXIGENCES	REPONSES	BAREME
C1-01 Lire et décoder les documents	<b>L'ETUDE PORTE SUR LA REALISATION DES TRAVAUX DE LA CHAMBRE 1</b>				
	Donner la description du revêtement de sol	Fiche technique	La description donnée est conforme à la fiche technique	Efficacité acoustique : ..... Classement UPEC: .....	/03
	A quelle famille appartient la colle CEGE 100 PLASTIQUE ?	Fiche technique	La réponse est juste	Colle à base..... .....	/1.5
	Préciser les conditions de stockage de la colle CEGE 100 PLASTIQUE	Fiche technique	Les conditions de stockage sont exactes	..... .....	/1.5
					/06

SECTEUR BATIMENT	CAP	Peintre Applicateur de Revêtements	SESSION 2011	Epreuve EP1	Forme Ecrite	Durée 3H00	ANALYSE D'UNE SITUATION PROFESSIONNELLE SUJET	Coefficient feuille	4 4 sur 9
------------------	-----	------------------------------------	--------------	----------------	-----------------	---------------	--	------------------------	--------------

C/S	TRAVAIL DEMANDE	RESSOURCE	EXIGENCES	REPONSES	BAREME
C1-02 Rechercher des informations	<b>L'ETUDE PORTE SUR LA REALISATION DES TRAVAUX DU SEJOUR</b>  Lister et ordonner les tâches à effectuer pour la préparation de la colle pour intisser QUELYD INTISSE 2	Dossier ressources Fiche technique	Aucune tâche n'est oubliée. Le classement chronologique est exact.	1- ..... 2- ..... 3- ..... 4- ..... 5- ..... 6- ..... 7- .....	/07
	Donner les dimensions du papier peint intissé	Dossier ressources Fiche technique	Les dimensions sont exactes.	Largeur de rouleau : ..... Longueur de rouleau : .....	/02
	Donner le numéro de bain du papier peint intissé posé en soubassement	Dossier ressources Fiche technique	Le numéro est exact	N° de bain : .....	/01
	Donner la signification des pictogrammes souvent présents sur l'emballage des rouleaux.	Ressources personnelles	Les significations sont conformes aux pictogrammes	 .....  .....  .....  .....  .....	/05
					/15

SECTEUR BATIMENT	CAP	Peintre Applicateur de Revêtements	SESSION 2011	Epreuve EP1	Forme Ecrit	Durée 3H00	ANALYSE D'UNE SITUATION PROFESSIONNELLE SUJET	Coefficient feuille	4 5 sur 9
------------------	-----	------------------------------------	--------------	----------------	----------------	---------------	--	------------------------	--------------

C/S	TRAVAIL DEMANDE	RESSOURCE	EXIGENCES	REPONSES	BAREME
S6 Sécurité et santé au travail	<p><b>L'ETUDE PORTE SUR LA REALISATION DES TRAVAUX DU SEJOUR</b></p> <p>Donner la signification des pictogrammes souvent présents sur les emballages des produits</p>	Ressources personnelles	Les pictogrammes sont correctement identifiés	<div style="display: flex; justify-content: space-around;"> <div style="text-align: center;">             Xi -            .....         </div> <div style="text-align: center;">             N -            .....         </div> </div> <div style="display: flex; justify-content: space-around; margin-top: 20px;"> <div style="text-align: center;">             F -            .....         </div> <div style="text-align: center;">             T -            .....         </div> </div>	/08
<b>Total</b>					/08

SECTEUR BATIMENT	CAP	Peintre Applicateur de Revêtements	SESSION 2011	Epreuve	Forme	Durée	ANALYSE D'UNE SITUATION PROFESSIONNELLE	Coefficient	4
				EP1	Ecrite	3H00			SUJET

C/S	TRAVAIL DEMANDE	RESSOURCE	EXIGENCES	REponses	BAREME
C2-03 Vérifier les quantités	<p><b>L'ETUDE PORTE SUR LA REALISATION DES TRAVAUX DU SEJOUR</b></p> <p>Pour la pose du papier peint intissé N° 002 .097 4B le chef de chantier vous donne 10 rouleaux. Effectuer le calcul pour vérifier que la quantité donnée est suffisante</p> <p>Déterminer la quantité de peinture à appliquer sur les boiseries</p>	<p>Connaissances personnelles</p> <p>Dossier technique</p> <p>Fiche technique</p> <p>Connaissances personnelles</p>	<p>Les dimensions indiquées sont exactes</p> <p>Faire apparaître les calculs</p> <p>Faire apparaître les calculs</p> <p>La quantité est exacte</p>	<p>Périmètre de la pièce : .....</p> <p>Hauteur du soubassement : 1.00 m</p> <p>Hauteur des plinthes : 0.10m</p> <p>Longueur des lés à débiter en partie basse : .....</p> <p>nombre de raccord dans 1 lé : .....</p> <p>hauteur des lés : .....</p> <p>Nombre de lés dans un rouleau : .....</p> <p>Nombre de lés soubassement : .....</p> <p>Nombre de rouleaux : .....</p> <p>Périmètre de la pièce : .....</p> <p>Hauteur partie haute : 1.40 m</p> <p>Longueur des lés à débiter en partie haute : .....</p> <p>nombre de raccord dans 1 lé : .....</p> <p>hauteur des lés : .....</p> <p>Nombre de lés partie haute : .....</p> <p>Nombre de lés dans un rouleau : .....</p> <p>Nombre de rouleaux : .....</p> <p>Quantité totale : .....</p> <p>Conclusion : .....</p> <p>.....</p> <p>Surface des boiseries</p> <p>Porte : .....</p> <p>Plinthe : .....</p> <p>.....</p> <p>2 Fenêtres : .....</p> <p>Porte fenêtre : .....</p> <p>Surface totale boiseries= .....</p> <p>Rendement au m<sup>2</sup>/L 12 à 14 m<sup>2</sup>/L</p> <p>Quantité de peinture pour deux couches : .....</p>	<p>/16</p> <p>/06</p> <p>/22</p>

SECTEUR BATIMENT	CAP	Peintre Applicateur de Revêtements	SESSION 2011	Epreuve EP1	Forme Ecrite	Durée 3H00	ANALYSE D'UNE SITUATION PROFESSIONNELLE SUJET	Coefficient feuille	4 8 sur 9
------------------	-----	------------------------------------	--------------	-------------	--------------	------------	---	---------------------	--------------



C/S	TRAVAIL DEMANDE	RESSOURCE	EXIGENCES	REPONSES				BAREME
C2-04 Utiliser un mode opératoire	<b>L'ETUDE PORTE SUR LA REALISATION DES TRAVAUX DU SEJOUR</b>  Classer en numérotant de 2 à 11 les opérations relatives à la pose d'un papier peint intissé, puis indiquer les outils et la matière d'œuvre utilisés	Structure du mode opératoire ci-contre	La chronologie des opérations est donnée et exacte.  Les outils et la matière d'œuvre sont donnés et exacts	N°	OPERATIONS	Renseignements techniques	Matière d'œuvre /outils	/11
					INSTALLER	Le poste de travail		
					ARASER	Le surplus de papier		
					DEBITER	Les lès aux dimensions voulues		
					MESURER	La hauteur à tapisser		
					ENCOLLER	Le mur		
					TRACER	L'aplomb (largeur du lé - 5mm)		
					AFFICHER	Les lès		
					NETTOYER / RANGER	Le chantier Les outils		
					MAROUFLER	Le lé		
					ENLEVER	Les excès de colle		
					CONTINUER	La pose des lès suivants		
							TOTAL	/100

SECTEUR BATIMENT	CAP	Peintre Applicateur de Revêtements	SESSION 2011	Epreuve	Forme	Durée	ANALYSE D'UNE SITUATION PROFESSIONNELLE SUJET	Coefficient	4
				EP1	Ecrite	3H00		feuille	9 sur 9